
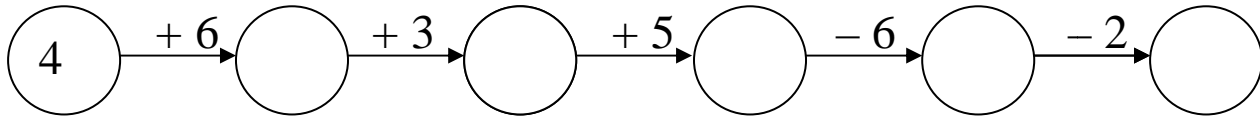
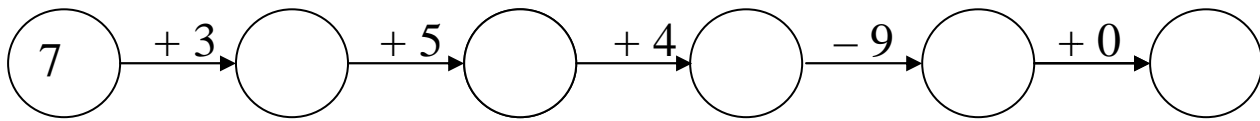


## Opakujeme si matematiku s Meduškou

1. Dopln' do hrnčekov čísla, ktoré stoja hneď pred a hneď za daným číslom.



2. Vypočítaj „reťazovky“.



3. Vyrieš slovnú úlohu.

Meduška mala na policike 6 bodkovaných a 12 kvetinkových šálok.

**Koľko šálok mala Meduška spolu?**


bodkovaných \_\_\_\_\_

kvetinkových \_\_\_\_\_

spolu šálok \_\_\_\_\_ ?

--	--	--	--	--

Meduška mala spolu  šálok.



4. Vypočítaj príklady.

$13 + 4 =$

$17 - 2 =$

$14 + 2 =$

$20 - 6 =$

$18 + 1 =$

$16 - 5 =$

$11 + 6 =$

$15 - 3 =$

$15 + 3 =$

$19 - 3 =$

$12 + 2 =$

$14 - 1 =$

$12 + 5 =$

$18 - 4 =$

$13 + 3 =$

$17 - 5 =$